

Минутки.

Часы.

Сутки.

(часть первая)



Про время обычно
говорят, что оно идёт,
бежит, течёт...
Время никогда не
останавливается.
Люди научились измерять
время.



Год



2
3
5



Прошло 3 года. Сколько полных оборотов сделала Земля вокруг Солнца?



Месяцы, времена года



А в каком месяце твой день рождения? Какое это время года?





Определите, какое время года изображено на каждом рисунке.
Закрасьте кружок рядом с картинкой в нужный цвет.



- Зима



- Весна



- Лето



- Осень





Определите, какое время года изображено на каждом рисунке.
Закрасьте кружок рядом с картинкой в нужный цвет.



- Зима



- Весна



- Лето



- Осень





Определите, какое время года изображено на каждом рисунке.
Закрасьте кружок рядом с картинкой в нужный цвет.



- Зима



- Весна



- Лето



- Осень





Определите, какое время года изображено на каждом рисунке.
Закрасьте кружок рядом с картинкой в нужный цвет.



- Зима



- Весна



- Лето



- Осень





Определите, какое время года изображено на каждом рисунке.
Закрасьте кружок рядом с картинкой в нужный цвет.



- Зима




- Весна



- Лето




- Осень



Сутки



Наша планета Земля вращается не только вокруг Солнца, но и вокруг своей оси, подставляя то один, то другой бок солнышку. Там, где планета освещена солнцем, - **день**. В это время с другой стороны планеты – **ночь**.



- Лето

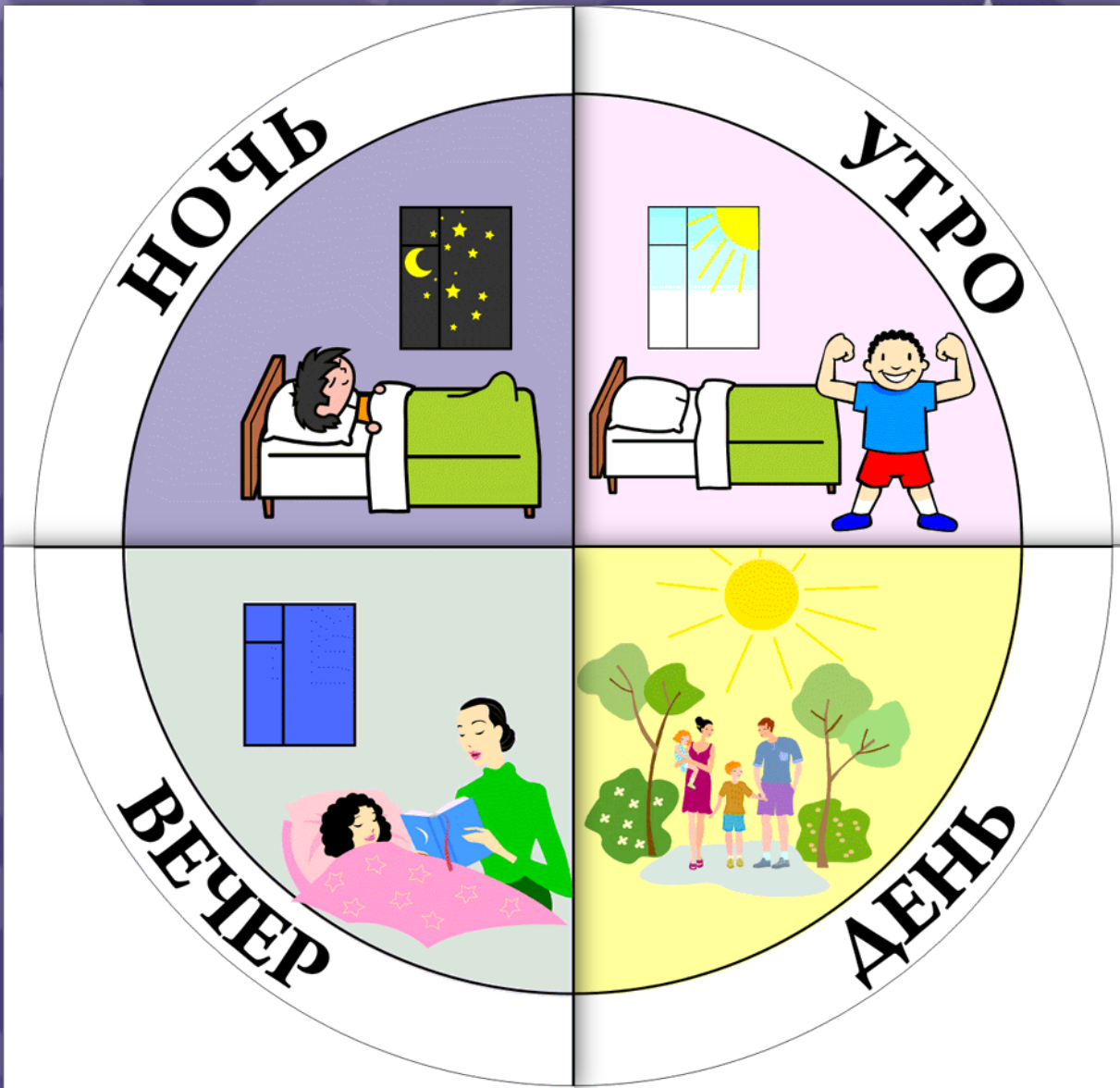


- Зима



«Дни длинные, а ночи короткие». Когда это бывает?
Выберите правильный ответ.





Время в течение суток можно называть по-разному.





Ночь

Утро

Вечер

День



Вот и солнышко встаёт,
 Спать ребятам не даёт!
 -Ну-ка, детки, подымайтесь,
 Заряжайтесь, умывайтесь,
 Аккуратно одевайтесь
 И за завтрак принимайтесь!



Угадайте, про какую часть суток стихотворение.





Уже за окошком темнеет,
Прохожий зевнул на ходу.
Из детского сада
Спешу я скорее,
Я к маме любимой иду!



Угадайте, про какую часть суток стихотворение.



Дни недели




Содержание



Расставьте цифры по порядку и вы узнаете, в каком порядке дни недели идут друг за другом.








Дни недели



С • о • д • л • ж • и • т • с • я




понедельник



Расставьте цифры по порядку и вы узнаете, в каком порядке дни недели идут друг за другом.



Дни недели



С • о • д • л • и • с • к • о • е



понедельник


вторник



Расставьте цифры по порядку и вы узнаете, в каком порядке дни недели идут друг за другом.



Дни недели







Понедельник



понедельник

вторник


среда



Расставьте цифры по порядку и вы узнаете, в каком порядке дни недели идут друг за другом.



Дни недели



понедельник

вторник

среда

четверг



? Расставь цифры по порядку и ты узнаешь, в каком порядке дни недели идут друг за другом.

Дни недели



понедельник

вторник

среда

четверг

пятница



Расставьте цифры по порядку и вы узнаете, в каком порядке дни недели идут друг за другом.



Дни недели



понедельник

вторник

среда

четверг

пятница

суббота



Расставьте цифры по порядку и вы узнаете, в каком порядке дни недели идут друг за другом.



Дни недели



понедельник

вторник

среда

четверг

пятница

суббота

воскресенье



Расставьте цифры по порядку и вы узнаете, в каком порядке дни недели идут друг за другом.



Вторник

2

Среда

3

Четверг

4

Пятница

5

Суббота

6

Понедельник

1

Воскресенье

7





Послезавтра
будет
пятница



Позавчера
было
воскресенье



Вчера
был
вторник



Сегодня
среда




Завтра
четверг



А теперь внимательно послушайте, что говорят зверушки, и найдите того, кто ошибается. Подсказка: зайчик прав.





Мышонок, ты
ошибся!
Позавчера был
понедельник!

Ребята, постарайтесь и вы выучить слова: позавчера, вчера, сегодня, завтра, послезавтра. И никогда их не путайте!





Г О Д



Отгадайте загадку: «В начале его и в конце холодно, а в середине - жарко»



До новых встреч!



Презентацию составила Иванова А.Е.

